



Antwort: _____


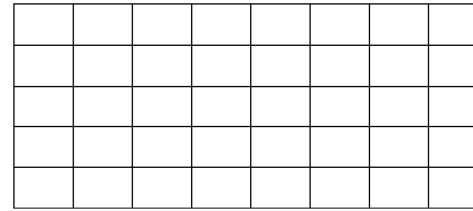


Ottokar befüllt Körbe. Er hat 20 Oster Eier, 30 Schoko Eier und 15 Kekse. Er verteilt alles gerecht und nichts bleibt übrig. Wie viele Körbe kann er befüllen? Löse die Aufgabe durch Überlegen!

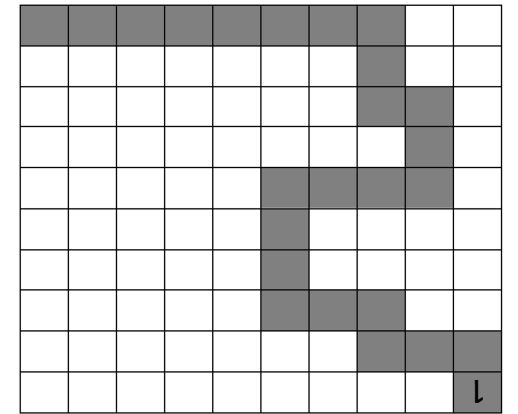
Antwort: _____



Auf dem Frühlingfest der Osterhasen hat sich Ottokar drei Ballons für je 3,50€ gekauft. Wie viel Geld hat er ausgegeben?



Osterhase Ottokar hat einige Eier mit schönen Mustern verziert. Finde zu den Eiern zwei passende Mal- und zwei Geteiltaufgaben!



Ottokar läuft über alle grauen Felder des Hundertfelds. Notiere alle geraden Zahlen auf seinem Weg!

Ottokar ist ein begeisterter Mathematiker. Er kennt alle Fachbegriffe. Verbinde jeweils den Fachbegriff mit der deutschen Bedeutung!

Subtraktion

Addition

Multiplikation

Division


Plusrechnung

Geteiltrechnung

Malrechnung

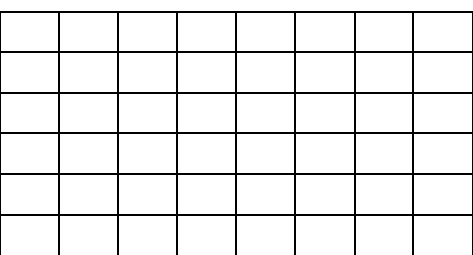
Minusrechnung

Rechnen mit Osterhase Ottokar



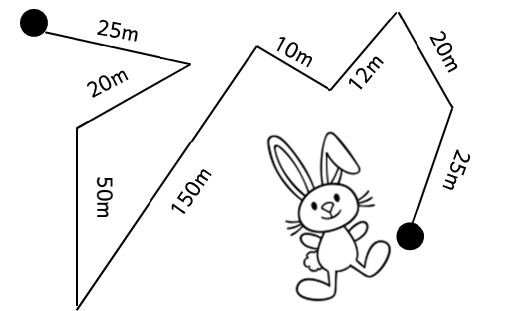
Name: _____

Osterhase Ottokar lebt auf einem Bauernhof. Dort gibt es neben ihm noch zwei andere Hasen, zehn Hühner, sechs Kühe, zwei Hunde, und doppelt so viele Katzen wie Hasen. Ach ja, vier Gänse gibt es dort auch noch. Wie viele Beine haben alle Tiere zusammen?




Antwort: _____

Osterhase Ottokar hat rund ums Osterfest viel zu tun. Heute besucht er aber seine Freundin, die Hasendame Helga. Schau dir Ottokars Wegstrecke genau an. Wie viele Meter muss er bis zu Helga laufen? Rechne im Kopf!




Antwort: _____

Antwort: _____


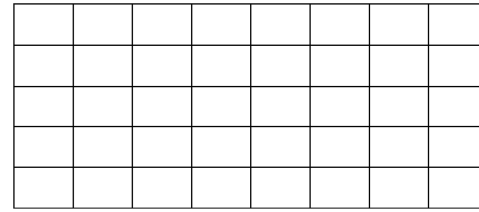


Ottokar befüllt Körbe. Er hat 20 Oster Eier, 30 Schoko Eier und 15 Kekse. Er verteilt alles gerecht und nichts bleibt übrig. Wie viele Körbe kann er befüllen? Löse die Aufgabe durch Überlegen!

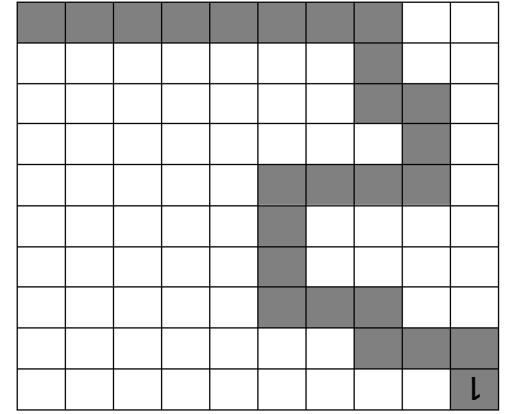
Antwort: _____



Auf dem Frühlingfest der Osterhasen hat sich Ottokar drei Ballons für je 3,50€ gekauft. Wie viel Geld hat er ausgegeben?



Osterhase Ottokar hat einige Eier mit schönen Mustern verziert. Finde zu den Eiern zwei passende Mal- und zwei Geteiltaufgaben!



Ottokar läuft über alle grauen Felder des Hundertfelds. Notiere alle geraden Zahlen auf seinem Weg!

Ottokar ist ein begeisterter Mathematiker. Er kennt alle Fachbegriffe. Verbinde jeweils den Fachbegriff mit der deutschen Bedeutung!

Subtraktion

Plusrechnung

Addition

Geteiltrechnung


Multiplikation

Malrechnung

Division

Minusrechnung

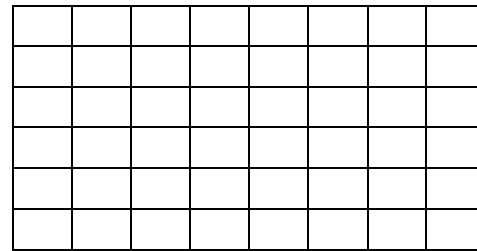
Rechnen mit Osterhase Ottokar



Name: _____

© Daniela Rembold (www.ideenreise.blogspot.de)

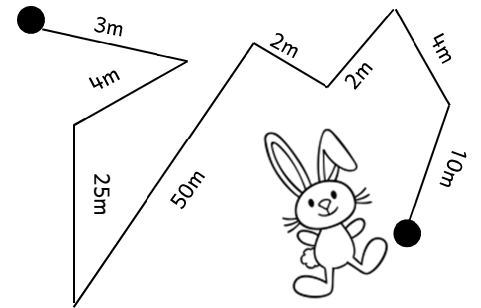
Osterhase Ottokar lebt auf einem Bauernhof. Dort gibt es neben ihm noch zwei andere Hasen, zehn Hühner, sechs Kühe, zwei Hunde, und doppelt so viele Katzen wie Hasen. Ach ja, vier Gänse gibt es dort auch noch. Wie viele Beine haben alle Tiere zusammen?



Antwort: _____



Osterhase Ottokar hat rund ums Osterfest viel zu tun. Heute besucht er aber seine Freundin, die Hasendame Helga. Schau dir Ottokars Wegstrecke genau an. Wie viele Meter muss er bis zu Helga laufen? Rechne im Kopf!



Antwort: _____

©www.ideenreise.blogspot.de

Schrift: Andika / Chinacat (www.dafont.com)

Bildmaterial: www.pinkcatstudio.com / www.whimsyclips.com